



DAULAT MAHATO MEMORIAL TEACHER'S TRAINING COLLEGE

BANASO, BISHNUGARH, HAZARIBAG (JHARKHAND) - 825312

Ability Test

Roll No.:

22

Students' Name:

Sushila Kumari

Course: B.Ed.

Session.

2023-2025

Date:

19/02/2024

1. भारतीय संविधान का कौन-सा भाग संविधान की आत्मा के नाम से जाना जाता है?
 - a) नागरिकता
 - b) प्रस्तावना
 - c) मौलिक अधिकार
 - d) इनमें से कोई नहीं
2. 1857 ई० के विद्रोह के समय भारत में गवर्नर जनरल था।
 - a) लॉर्ड हार्डिंग
 - b) लॉर्ड डलहौजी
 - c) लॉर्ड कैनिंग
 - d) लॉर्ड एलिगन
3. राष्ट्रीय शिक्षा नीति 2020 के अनुसार, उच्च शिक्षण संस्थानों में 'सकल नामांकन अनुपात' (Gross Enrolment Ratio) को कितना प्रतिशत बढ़ाने का लक्ष्य रखा गया है?
 - a) 25 %
 - b) 30 %
 - c) 40 %
 - d) 50 %
4. He was delighted his brother's success.
 - a) at
 - b) in
 - c) with
 - d) of
5. किसी समद्विबाहु त्रिभुज के शीर्ष कोण की माप 100° है। आधार के प्रत्येक कोण की माप होगी।
 - a) 40°
 - b) 50°
 - c) 60°
 - d) 80°

6. 'विद्यालय' कौन-सा शब्द है?

- a) रूढ
- b) योगरूढ
- c) यौगिक
- d) अविकारी

7. लाफिंग गैस क्या है?

- a) नाइट्रिक आक्साइड
- b) नाइट्रस आक्साइड
- c) नाइट्रोजन डाईआक्साइड
- d) इनमें से कोई नहीं

8. MILD : N KOH :: GATE : ?

- a) HCWI
- b) HWCT
- c) HCWT
- d) EYRC

9. A, B की पत्नी व C, A की बहन है, C के पिता D हैं, जबकि E, D का पुत्र है, E का B से क्या संबंध है?

- a) भाई
- b) साला
- c) चचेरा भाई
- d) ससुर

10. एक अध्यापक प्रश्न-बैंक (Question Bank) तैयार कर सकता है-

- a) MS Word की सहायता से
- b) Excel की सहायता से
- c) Power Point की सहायता से
- d) उपरुक्त सभी की सहायता से

11. भारत के संविधान का निर्माण किस योजना के अनुसार किया गया?

- a) बैवलच योजना
- b) माउन्ट वेटन योजना
- c) कैबिनेट मिशन योजना
- d) उपर्युक्त में से सभी

12. महावीर जैन धर्म के तीर्थंकर थे।

- a) 22 वें
- b) 23 वें
- c) 24 वें
- d) 25 वें

13. पहली रेल किन दो नगरों के मध्य चली?

- a) मुंबई और थाने
- b) कलकत्ता और दिल्ली
- c) मुम्बई और दिल्ली
- d) दिल्ली और मद्रास

14. राष्ट्रीय शिक्षा नीति 2020 में, शिक्षक को किस कक्षा तक मातृभाषा/ स्थानीय या क्षेत्रीय भाषा में पाठ पढ़ाने पर बल दिया गया है?

- a) कक्षा 3
- b) कक्षा 4
- c) कक्षा 5
- d) उपरोक्त में से कोई नहीं

15. I have brought some books You to examine.

- a) to
- b) for
- c) with
- d) over

16. किस संख्या को उलट कर लिखने पर 12 का अंतर आएगा?

- a) 84
- b) 85
- c) 86
- d) उपरोक्त में से कोई नहीं

17. _____ अभिक्रिया के कारण लोहे में जंग लग जाता है?

- a) आक्सीकरण
- b) अपचयन
- c) संक्षारण
- d) अपचयोपचय (रेडोक्स)

18. चिड़िया : मछली : : हवाई जहाज : ?

- a) हवा
- b) कार
- c) पानी
- d) पानी का जहाज

19. NEP 2020 के अनुसार, नई शैक्षिक पाठ्यक्रम प्रणाली क्या है?

- a) 3 + 4 + 4 + 5
- b) 5 + 3 + 3 + 4
- c) 4 + 3 + 3 + 5
- d) 5 + 4 + 3 + 3

20. भारत में यूरेनियम कहा पाया जाता है?

- a) सिंहभूम
- b) जादूगोड़ा
- c) खेतड़ी
- d) कोडरमा

21. दक्षिण भारत की सबसे ऊँची चोटी है

- a) दोदाबेटा
- b) धूपगढ़
- c) अमर कण्टक
- d) अनाइमुडी

22. रामकृष्ण मिशन की स्थापना किसने की थी?

- a) रामकृष्ण परमहंस
- b) विवेकानन्द
- c) रवीन्द्रनाथ टैगोर
- d) दयानन्द सरस्वती

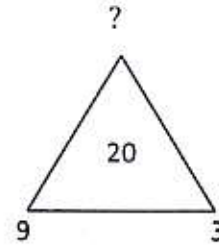
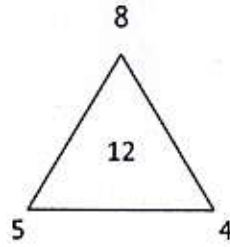
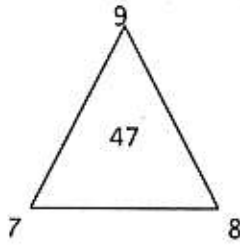
23. निम्नांकित में से कौन देश कोयले का सबसे बड़ा उत्पादक है?

- a) चीन
- b) भारत
- c) अमेरिका
- d) ब्राज़ील

24. एक व्यक्ति दक्षिण-पूर्व की ओर मुख करके वामावर्त दिशा में 90 डिग्री के तीन चक्कर लगता है और फिर दक्षिणावर्त दिशा में 45 डिग्री के दो चक्कर लगता है। उसके संदर्भ में उसका दाहिना हाथ अब किस दिशा में है?

- a) दक्षिण-पूर्व
- b) पूर्व
- c) उत्तर-पूर्व
- d) दक्षिण

25. निम्नांकित त्रिभुजों में संख्याएँ एक विशेष नियमानुसार भरी गयी हैं, इनमें से एक स्थान पर प्रश्नसूचक चिन्ह है इस प्रश्नसूचक चिन्ह के स्थान पर नीचे दिये गये विकल्पों से एक की संख्या आयेगी, उस विकल्प को ज्ञात करें।



a) 3

b) 5

~~c) 7~~

d) 9



21
25
19/02/24

Principal

Daulat Mahato Memorial Teachers' Training College
Banaso, Hazaribag, Jharkhand

DAULAT MAHATO MEMORIAL TEACHER'S TRAINING COLLEGE

BANASO, BISHNUGARH, HAZARIBAG (JHARKHAND) - 825312

Ability Test

Roll No.: 36

Students' Name: MOHIT KUMAR

Course: B.Ed.

Session. 2023-25

Date: 19/02/24.

1. भारतीय संविधान का कौन-सा भाग संविधान की आत्मा के नाम से जाना जाता है?
 - a) नागरिकता
 - b) प्रस्तावना
 - c) मौलिक अधिकार
 - d) इनमें से कोई नहीं
2. 1857 ई० के विद्रोह के समय भारत में गवर्नर जनरल था।
 - a) लॉर्ड हार्डिंग
 - b) लॉर्ड डलहौजी
 - c) लॉर्ड कैनिंग
 - d) लॉर्ड एलिगन
3. राष्ट्रीय शिक्षा नीति 2020 के अनुसार, उच्च शिक्षण संस्थानों में 'सकल नामांकन अनुपात' (Gross Enrolment Ratio) को कितना प्रतिशत बढ़ाने का लक्ष्य रखा गया है?
 - a) 25 %
 - b) 30 %
 - c) 40 %
 - d) 50 %
4. He was delighted his brother's success.
 - a) at
 - b) in
 - c) with
 - d) of
5. किसी समद्विबाहु त्रिभुज के शीर्ष कोण की माप 100° है। आधार के प्रत्येक कोण की माप होगी।
 - a) 40°
 - b) 50°
 - c) 60°
 - d) 80°

6. 'विद्यालय' कौन-सा शब्द है?

- a) रूढ़
- b) योगरूढ़
- c) यौगिक
- d) अविकारी

7. लाफिंग गैस क्या है?

- a) नाइट्रिक आक्साइड
- b) नाइट्रस आक्साइड
- c) नाइट्रोजन डाईआक्साइड
- d) इनमें से कोई नहीं

8. MILD : NKOH :: GATE :: ?

- a) HCWI
- b) HWCT
- c) HCWT
- d) EYRC

9. A, B की पत्नी व C, A की बहन है, C के पिता D है, जबकि E, D का पुत्र है, E का B से क्या संबंध है?

- a) भाई
- b) सीला
- c) चचेरा भाई
- d) ससुर

10. एक अध्यापक प्रश्न-बैंक (Question Bank) तैयार कर सकता है-

- a) MS Word की सहायता से
- b) Excel की सहायता से
- c) Power Point की सहायता से
- d) उपरुक्त सभी की सहायता से

11. भारत के संविधान का निर्माण किस योजना के अनुसार किया गया?

- a) बैवलच योजना
- b) माउन्ट वेटन योजना
- c) कैबिनेट मिशन योजना
- d) उपर्युक्त में से सभी

12. महावीर जैन धर्म के तीर्थंकर थे।

a) 22 वें

b) 23 वें

c) 24 वें

d) 25 वें

13. पहली रेल किन दो नगरों के मध्य चली?

a) मुंबई और थाने

b) कलकत्ता और दिल्ली

c) मुम्बई और दिल्ली

d) दिल्ली और मद्रास

14. राष्ट्रीय शिक्षा नीति 2020 में, शिक्षक को किस कक्षा तक मातृभाषा/ स्थानीय या क्षेत्रीय भाषा में पाठ पढ़ाने पर बल दिया गया है?

a) कक्षा 3

b) कक्षा 4

c) कक्षा 5

d) उपरोक्त में से कोई नहीं

15. I have brought some books You to examine.

a) to

b) for

c) with

d) over

16. किस संख्या को उलट कर लिखने पर 12 का अंतर आएगा?

a) 84

b) 85

c) 86

d) उपरोक्त में से कोई नहीं

17. _____ अभिक्रिया के कारण लोहे में जंग लग जाता है?

a) ऑक्सीकरण

b) अपचयन

c) संक्षारण

d) अपचयोपचय (रेडोक्स)

18. चिड़िया : मछली : : हवाई जहाज : ?

- a) हवा
- b) कार
- c) पानी

d) पानी का जहाज

19. NEP 2020 के अनुसार, नई शैक्षिक पाठ्यक्रम प्रणाली क्या है?

- a) 3 + 4 + 4 + 5
- b) 5 + 3 + 3 + 4
- c) 4 + 3 + 3 + 5
- d) 5 + 4 + 3 + 3

20. भारत में यूरेनियम कहा पाया जाता है?

- a) सिंहभूम
- b) जादूगोड़ा
- c) खेतड़ी
- d) कोडरमा

21. दक्षिण भारत की सबसे ऊँची चोटी है

- a) दोदाबेटा
- b) धूपगढ़
- c) अमर कण्टक
- d) अन्नाइमुडी

22. रामकृष्ण मिशन की स्थापना किसने की थी?

- a) रामकृष्ण परमहंस
- b) विवेकानन्द
- c) रवीन्द्रनाथ टैगोर
- d) दयानन्द सरस्वती

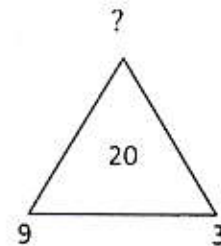
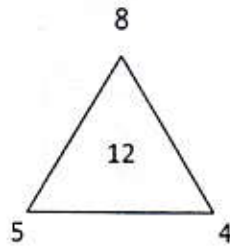
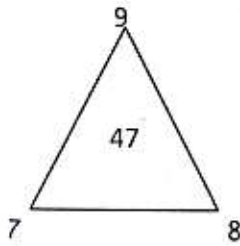
23. निम्नांकित में से कौन देश कोयले का सबसे बड़ा उत्पादक है?

- a) चीन
- b) भारत
- c) अमेरिका
- d) ब्राज़ील

24. एक व्यक्ति दक्षिण-पूर्व की ओर मुख करके वामावर्त दिशा में 90 डिग्री के तीन चक्कर लगता है और फिर दक्षिणावर्त दिशा में 45 डिग्री के दो चक्कर लगता है। उसके संदर्भ में उसका दाहिना हाथ अब किस दिशा में है?

- a) दक्षिण-पूर्व
- b) पूर्व
- c) उत्तर-पूर्व
- d) दक्षिण

25. निम्नांकित त्रिभुजों में संख्याएँ एक विशेष नियमानुसार भरी गयी हैं, इनमें से एक स्थान पर प्रश्नसूचक चिन्ह है इस प्रश्नसूचक चिन्ह के स्थान पर नीचे दिये गये विकल्पों से एक की संख्या आयेगी, उस विकल्प को ज्ञात करें।



- a) 3
- b) 5
- c) 7
- d) 9



38
25
19/02/2024

Ram

Principal

Daulat Mahato Memorial Teachers' Training College

DAULAT MAHATO MEMORIAL TEACHER'S TRAINING COLLEGE

BANASO, BISHNUGARH, HAZARIBAG (JHARKHAND) - 825312

Ability Test

Roll No.:

52

Students' Name:

Sakshi Dasgupta

Course: B.Ed.

Session.

2023-25

Date:

19/02/2024

1. भारतीय संविधान का कौन-सा भाग संविधान की आत्मा के नाम से जाना जाता है?
 - a) नागरिकता
 - b) प्रस्तावना
 - c) मौलिक अधिकार
 - d) इनमें से कोई नहीं
2. 1857 ई० के विद्रोह के समय भारत में गवर्नर जनरल था।
 - a) लॉर्ड हार्डिंग
 - b) लॉर्ड डलहौजी
 - c) लॉर्ड कैनिंग
 - d) लॉर्ड एलिगन
3. राष्ट्रीय शिक्षा नीति 2020 के अनुसार, उच्च शिक्षण संस्थानों में 'सकल नामांकन अनुपात' (Gross Enrolment Ratio) को कितना प्रतिशत बढ़ाने का लक्ष्य रखा गया है?
 - a) 25 %
 - b) 30 %
 - c) 40 %
 - d) 50 %
4. He was delighted his brother's success.
 - a) at
 - b) in
 - c) with
 - d) of
5. किसी समद्विबाहु त्रिभुज के शीर्ष कोण की माप 100° है। आधार के प्रत्येक कोण की माप होगी।
 - a) 40°
 - b) 50°
 - c) 60°
 - d) 80°

6. 'विद्यालय' कौन-सा शब्द है?

- a) रूढ़
- b) योगरूढ़
- c) यौगिक
- d) अविकारी

7. लाफिंग गैस क्या है?

- a) नाइट्रिक आक्साइड
- b) नाइट्रस आक्साइड
- c) नाइट्रोजन डाईआक्साइड
- d) इनमें से कोई नहीं

8. MILD : NKOH :: GATE : ?

- a) HCWI
- b) HWCT
- c) HCWT
- d) EYRC

9. A, B की पत्नी व C, A की बहन है, C के पिता D है, जबकि E, D का पुत्र है, E का B से क्या संबंध है?

- a) भाई
- b) साला
- c) चचेरा भाई
- d) ससुर

10. एक अध्यापक प्रश्न-बैंक (Question Bank) तैयार कर सकता है-

- a) MS Word की सहायता से
- b) Excel की सहायता से
- c) Power Point की सहायता से
- d) उपरुक्त सभी की सहायता से

11. भारत के संविधान का निर्माण किस योजना के अनुसार किया गया?

- a) बैवलच योजना
- b) माउन्ट वेटन योजना
- c) कैबिनेट मिशन योजना
- d) उपर्युक्त में से सभी

12. महावीर जैन धर्म के तीर्थंकर थे।

a) 22 वैं

b) 23 वैं

~~c) 24 वैं~~

d) 25 वैं

13. पहली रेल किन दो नगरों के मध्य चली?

~~a) मुंबई और थाने~~

b) कलकत्ता और दिल्ली

c) मुम्बई और दिल्ली

d) दिल्ली और मद्रास

14. राष्ट्रीय शिक्षा नीति 2020 में, शिक्षक को किस कक्षा तक मातृभाषा/ स्थानीय या क्षेत्रीय भाषा में पाठ पढ़ाने पर बल दिया गया है?

a) कक्षा 3

b) कक्षा 4

~~c) कक्षा 5~~

d) उपरोक्त में से कोई नहीं

15. I have brought some books You to examine.

a) to

~~b) for~~

c) with

d) over

16. किस संख्या को उलट कर लिखने पर 12 का अंतर आएगा?

a) 84

b) 85

c) 86

~~d) उपरोक्त में से कोई नहीं~~

17. _____ अभिक्रिया के कारण लोहे में जंग लग जाता है?

a) ऑक्सीकरण

b) अपचयन

c) संक्षारण

~~d) अपचयोपचय (रेडोक्स)~~

18. चिड़िया : मछली : : हवाई जहाज : ?

- a) हवा
- b) कार
- c) पानी
- d) पानी का जहाज

19. NEP 2020 के अनुसार, नई शैक्षिक पाठ्यक्रम प्रणाली क्या है?

- a) 3 + 4 + 4 + 5
- b) 5 + 3 + 3 + 4
- c) 4 + 3 + 3 + 5
- d) 5 + 4 + 3 + 3

20. भारत में यूरेनियम कहा पाया जाता है?

- a) सिंहभूम
- b) जादूगोड़ा
- c) खेतड़ी
- d) कोडरमा

21. दक्षिण भारत की सबसे ऊँची चोटी है

- a) दोदाबेटा
- b) धूपगढ़
- c) अमर कण्टक
- d) अनाइमुडी

22. रामकृष्ण मिशन की स्थापना किसने की थी?

- a) रामकृष्ण परमहंस
- b) विवेकानन्द
- c) रवीन्द्रनाथ टैगोर
- d) दयानन्द सरस्वती

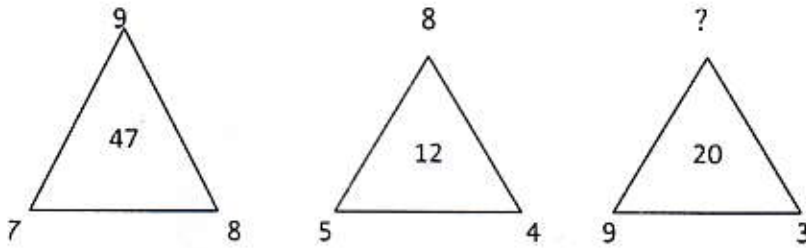
23. निम्नांकित में से कौन देश कोयले का सबसे बड़ा उत्पादक है?

- a) चीन
- b) भारत
- c) अमेरिका
- d) ब्राज़ील

24. एक व्यक्ति दक्षिण-पूर्व की ओर मुख करके वामावर्त दिशा में 90 डिग्री के तीन चक्कर लगता है और फिर दक्षिणावर्त दिशा में 45 डिग्री के दो चक्कर लगता है। उसके संदर्भ में उसका दाहिना हाथ अब किस दिशा में है?

- a) दक्षिण-पूर्व
- b) पूर्व
- c) उत्तर-पूर्व
- d) दक्षिण

25. निम्नांकित त्रिभुजों में संख्याएँ एक विशेष नियमानुसार भरी गयी हैं, इनमें से एक स्थान पर प्रश्नसूचक चिन्ह है इस प्रश्नसूचक चिन्ह के स्थान पर नीचे दिये गये विकल्पों से एक की संख्या आयेगी, उस विकल्प को ज्ञात करें।



a) 3

b) 5

c) 7

d) 9



DAULAT MAHATO MEMORIAL TEACHER'S TRAINING COLLEGE
BANASO, BISHNUGARH, HAZARIBAG (JHARKHAND) - 825312

19/25
Sesh
19/02/2024

SAM

Principal

Daulat Mahato Memorial Teachers' Training College

Ability Test

Roll No.: 82

Students' Name: BASUDEW KUMAR VIDYARJHI

Course: B.Ed.

Session.

Date: 19/02/2024

1. भारतीय संविधान का कौन-सा भाग संविधान की आत्मा के नाम से जाना जाता है?
 - a) नागरिकता
 - b) प्रस्तावना
 - c) मौलिक अधिकार
 - d) इनमें से कोई नहीं
2. 1857 ई० के विद्रोह के समय भारत में गवर्नर जनरल था।
 - a) लॉर्ड हार्डिंग
 - b) लॉर्ड डलहौजी
 - c) लॉर्ड कैनिंग
 - d) लॉर्ड एलिगन
3. राष्ट्रीय शिक्षा नीति 2020 के अनुसार, उच्च शिक्षण संस्थानों में 'सकल नामांकन अनुपात' (Gross Enrolment Ratio) को कितना प्रतिशत बढ़ाने का लक्ष्य रखा गया है?
 - a) 25 %
 - b) 30 %
 - c) 40 %
 - d) 50 %
4. He was delighted his brother's success.
 - a) at
 - b) in
 - c) with
 - d) of
5. किसी समद्विबाहु त्रिभुज के शीर्ष कोण की माप 100° है। आधार के प्रत्येक कोण की माप होगी।
 - a) 40°
 - b) 50°
 - c) 60°
 - d) 80°

6. 'विद्यालय' कौन-सा शब्द है?

- a) रूढ़
- b) योगरूढ़
- c) यौगिक
- d) अविकारी

7. लाफिंग गैस क्या है?

- a) नाइट्रिक आक्साइड
- b) नाइट्रस आक्साइड
- c) नाइट्रोजन डाईआक्साइड
- d) इनमें से कोई नहीं

8. MILD : N KOH :: GATE : ?

- a) HCWI
- b) HWCT
- c) HCWT
- d) EYRC

9. A, B की पत्नी व C, A की बहन है, C के पिता D हैं, जबकि E, D का पुत्र है, E का B से क्या संबंध है?

- a) भाई
- b) साला
- c) चचेरा भाई
- d) ससुर

10. एक अध्यापक प्रश्न-बैंक (Question Bank) तैयार कर सकता है-

- a) MS Word की सहायता से
- b) Excel की सहायता से
- c) Power Point की सहायता से
- d) उपरुक्त सभी की सहायता से

11. भारत के संविधान का निर्माण किस योजना के अनुसार किया गया?

- a) बैचलर योजना
- b) माउन्ट घेन योजना
- c) कैबिनेट मिशन योजना
- d) उपर्युक्त में से सभी

12. महावीर जैन धर्म के तीर्थंकर थे।

a) 22 वें

b) 23 वें

c) 24 वें

d) 25 वें

13. पहली रेल किन दो नगरों के मध्य चली?

a) मुंबई और थाने

b) कलकत्ता और दिल्ली

c) मुम्बई और दिल्ली

d) दिल्ली और मद्रास

14. राष्ट्रीय शिक्षा नीति 2020 में, शिक्षक को किस कक्षा तक मातृभाषा/ स्थानीय या क्षेत्रीय भाषा में पाठ पढ़ाने पर बल दिया गया है?

a) कक्षा 3

b) कक्षा 4

c) कक्षा 5

d) उपरोक्त में से कोई नहीं

15. I have brought some books You to examine.

a) to

b) for

c) with

d) over

16. किस संख्या को उलट कर लिखने पर 12 का अंतर आएगा?

a) 84

b) 85

c) 86

d) अज्ञेयता से कोई नहीं

17. _____ अभिक्रिया के कारण लोहे में जंग लग जाता है?

a) आक्सीकरण

b) अपचयन

c) संक्षारण

d) अपचयोपचय (रेडोक्स)

18. चिड़िया : मछली :: हवाई जहाज : ?

- a) हवा
- b) कार
- c) पानी
- d) पानी का जहाज

19. NEP 2020 के अनुसार, नई शैक्षिक पाठ्यक्रम प्रणाली क्या है?

- a) 3 + 4 + 4 + 5
- b) 5 + 3 + 3 + 3
- c) 4 + 3 + 3 + 5
- d) 5 + 4 + 3 + 3

20. भारत में यूरेनियम कहा पाया जाता है?

- a) सिंहभूम
- b) जादूगोड़ा
- c) खेतड़ी
- d) कोडरमा

21. दक्षिण भारत की सबसे ऊँची चोटी है

- a) दोदाबेटा
- b) धूपगढ़
- c) अमर कण्टक
- d) अनाइमुडी

22. रामकृष्ण मिशन की स्थापना किसने की थी?

- a) रामकृष्ण परमहंस
- b) विवेकानन्द
- c) रवीन्द्रनाथ टैगोर
- d) दयानन्द सरस्वती

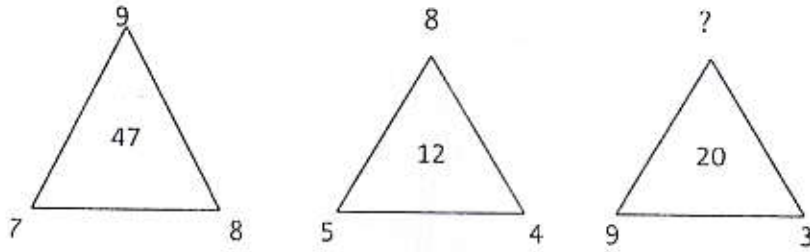
23. निम्नांकित में से कौन देश कोयले का सबसे बड़ा उत्पादक है?

- a) चीन
- b) भारत
- c) अमेरिका
- d) ब्राज़ील

24. एक व्यक्ति दक्षिण-पूर्व की ओर मुख करके वामावर्त दिशा में 90 डिग्री के तीन चक्कर लगता है और फिर दक्षिणावर्त दिशा में 45 डिग्री के दो चक्कर लगता है। उसके संदर्भ में उसका दाहिना हाथ अब किस दिशा में है?

- a) दक्षिण-पूर्व
- b) पूर्व
- c) उत्तर-पूर्व
- d) दक्षिण

25. निम्नांकित त्रिभुजों में संख्याएँ एक विशेष नियमानुसार भरी गयी हैं, इनमें से एक स्थान पर प्रश्नसूचक चिन्ह है इस प्रश्नसूचक चिन्ह के स्थान पर नीचे दिये गये विकल्पों से एक की संख्या आयेगी, उस विकल्प को ज्ञात करें।



- a) 3
- b) 7
- c) 7
- d) 9



17
25

Soluh
Til 10/21/2024

Principal

Daulat Mahato Memorial Teachers' Training College
Banaso, Hazaribag, Jharkhand

DAULAT MAHATO MEMORIAL TEACHER'S TRAINING COLLEGE
BANASO, BISHNUGARH, HAZARIBAG (JHARKHAND) - 825312

Ability Test

Roll No.: 10

Students' Name:

Shubham Kumar

Course: B.Ed.

Session. 2023-25

Date: 19.02-24

1. भारतीय संविधान का कौन-सा भाग संविधान की आत्मा के नाम से जाना जाता है?
 - a) नागरिकता
 - b) प्रस्तावना
 - c) मौलिक अधिकार
 - d) इनमें से कोई नहीं
2. 1857 ई० के विद्रोह के समय भारत में गवर्नर जनरल था।
 - a) लॉर्ड हार्डिंग
 - b) लॉर्ड डलहौजी
 - c) लॉर्ड कैनिंग
 - d) लॉर्ड एलिगन
3. राष्ट्रीय शिक्षा नीति 2020 के अनुसार, उच्च शिक्षण संस्थानों में 'सकल नामांकन अनुपात' (Gross Enrolment Ratio) को कितना प्रतिशत बढ़ाने का लक्ष्य रखा गया है?
 - a) 25 %
 - b) 30 %
 - c) 40 %
 - d) 50 %
4. He was delighted his brother's success.
 - a) at
 - b) in
 - c) with
 - d) of
5. किसी समद्विबाहु त्रिभुज के शीर्ष कोण की माप 100° है। आधार के प्रत्येक कोण की माप होगी।
 - a) 40°
 - b) 50°
 - c) 60°
 - d) 80°

6. 'विद्यालय' कौन-सा शब्द है?

- a) रूढ़
- b) योगरूढ़
- c) यौगिक
- d) अविकारी

7. लाफिंग गैस क्या है?

- a) नाइट्रिक आक्साइड
- b) नाइट्रस आक्साइड
- c) नाइट्रोजन डाईआक्साइड
- d) इनमें से कोई नहीं

8. MILD : NKOH :: GATE : ?

- a) HCWI
- b) HWCT
- c) HCWT
- d) EYRC

9. A, B की पत्नी व C, A की बहन है, C के पिता D है, जबकि E, D का पुत्र है, E का B से क्या संबंध है?

- a) भाई
- b) साला
- c) चचेरा भाई
- d) ससुर

10. एक अध्यापक प्रश्न-बैंक (Question Bank) तैयार कर सकता है-

- a) MS Word की सहायता से
- b) Excel की सहायता से
- c) Power Point की सहायता से
- d) उपरुक्त सभी की सहायता से

11. भारत के संविधान का निर्माण किस योजना के अनुसार किया गया?

- a) बैवलच योजना
- b) माउन्ट वेटन योजना
- c) कैबिनेट मिशन योजना
- d) उपर्युक्त में से सभी

12. महावीर जैन धर्म के तीर्थंकर थे।

a) 22 वें

b) 23 वें

c) 24 वें

d) 25 वें

13. पहली रेल किन दो नगरों के मध्य चली?

a) मुंबई और थाने

b) कलकत्ता और दिल्ली

c) मुम्बई और दिल्ली

d) दिल्ली और मद्रास

14. राष्ट्रीय शिक्षा नीति 2020 में, शिक्षक को किस कक्षा तक मातृभाषा/ स्थानीय या क्षेत्रीय भाषा में पाठ पढ़ाने पर बल दिया गया है?

a) कक्षा 3

b) कक्षा 4

c) कक्षा 5

d) उपरोक्त में से कोई नहीं

15. I have brought some books You to examine.

a) to

b) for

c) with

d) over

16. किस संख्या को उलट कर लिखने पर 12 का अंतर आएगा?

a) 84

b) 85

c) 86

d) उपरोक्त में से कोई नहीं

17. _____ अभिक्रिया के कारण लोहे में जंग लग जाता है?

a) ऑक्सीकरण

b) अपचयन

c) संक्षारण

d) अपचयोपचय (रेडोक्स)

18. चिड़िया : मछली : : हवाई जहाज : ?

- a) हवा
- b) कार
- c) पानी
- d) पानी का जहाज

19. NEP 2020 के अनुसार, नई शैक्षिक पाठ्यक्रम प्रणाली क्या है?

- a) 3 + 4 + 4 + 5
- b) 5 + 3 + 3 + 4
- c) 4 + 3 + 3 + 5
- d) 5 + 4 + 3 + 3

20. भारत में यूरेनियम कहा पाया जाता है?

- a) सिंहभूम
- b) जादूगोड़ा
- c) खेतड़ी
- d) कोडरमा

21. दक्षिण भारत की सबसे ऊँची चोटी है

- a) दोदाबेटा
- b) धूपगढ़
- c) अमर कण्टक
- d) अनाइमुडी

22. रामकृष्ण मिशन की स्थापना किसने की थी?

- a) रामकृष्ण परमहंस
- b) विवेकानन्द
- c) रवीन्द्रनाथ टैगोर
- d) दयानन्द सरस्वती

23. निम्नांकित में से कौन देश कोयले का सबसे बड़ा उत्पादक है?

- a) चीन
- b) भारत
- c) अमेरिका
- d) ब्राज़ील

24. एक व्यक्ति दक्षिण-पूर्व की ओर मुख करके वामावर्त दिशा में 90 डिग्री के तीन चक्कर लगता है और फिर दक्षिणावर्त दिशा में 45 डिग्री के दो चक्कर लगता है। उसके संदर्भ में उसका दाहिना हाथ अब किस दिशा में है?

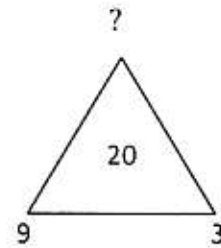
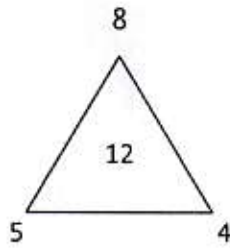
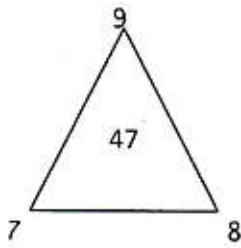
a) दक्षिण-पूर्व

b) पूर्व

c) उत्तर-पूर्व

d) दक्षिण

25. निम्नांकित त्रिभुजों में संख्याएँ एक विशेष नियमानुसार भरी गयी हैं, इनमें से एक स्थान पर प्रश्नसूचक चिन्ह है इस प्रश्नसूचक चिन्ह के स्थान पर नीचे दिये गये विकल्पों से एक की संख्या आयेगी, उस विकल्प को ज्ञात करें।



a) 3

b) 5

~~c) 7~~

d) 9



17
25
Principal
19/02/2024

Principal
Daulat Mahato Memorial Teachers' Training College
Banaso, Hazaribag, Jharkhand

DAULAT MAHATO MEMORIAL TEACHER'S TRAINING COLLEGE

BANASO, BISHNUGARH, HAZARIBAG (JHARKHAND) - 825312

Ability Test

Roll No.: 44

Students' Name: RUPAKUMARI

Course: B.Ed.

Session. 2023-25

Date: 19/02/2024

1. भारतीय संविधान का कौन-सा भाग संविधान की आत्मा के नाम से जाना जाता है?
 - a) नागरिकता
 - b) प्रस्तावना
 - c) मौलिक अधिकार
 - d) इनमें से कोई नहीं
2. 1857 ई० के विद्रोह के समय भारत में गवर्नर जनरल था।
 - a) लॉर्ड हार्डिंग
 - b) लॉर्ड डलहौजी
 - c) लॉर्ड कैनिंग
 - d) लॉर्ड एलिगन
3. राष्ट्रीय शिक्षा नीति 2020 के अनुसार, उच्च शिक्षण संस्थानों में 'सकल नामांकन अनुपात' (Gross Enrolment Ratio) को कितना प्रतिशत बढ़ाने का लक्ष्य रखा गया है?
 - a) 25 %
 - b) 30 %
 - c) 40 %
 - d) 50 %
4. He was delighted his brother's success.
 - a) at
 - b) in
 - c) with
 - d) of
5. किसी समद्विबाहु त्रिभुज के शीर्ष कोण की माप 100° है। आधार के प्रत्येक कोण की माप होगी।
 - a) 40°
 - b) 50°
 - c) 60°
 - d) 80°

6. 'विद्यालय' कौन-सा शब्द है?

- a) रूढ
- b) योगरूढ
- c) यौगिक
- d) अविकारी

7. लाफिंग गैस क्या है?

- a) नाइट्रिक आक्साइड
- b) नाइट्रस आक्साइड
- c) नाइट्रोजन डाईआक्साइड
- d) इनमें से कोई नहीं

8. MILD : N KOH :: GATE : ?

- a) HCWI
- b) HWCT
- c) HCWT
- d) EYRC

9. A, B की पत्नी व C, A की बहन है, C के पिता D है, जबकि E, D का पुत्र है, E का B से क्या संबंध है?

- a) भाई
- b) साला
- c) चचेरा भाई
- d) ससुर

10. एक अध्यापक प्रश्न-बैंक (Question Bank) तैयार कर सकता है-

- a) MS Word की सहायता से
- b) Excel की सहायता से
- c) Power Point की सहायता से
- d) उपरुक्त सभी की सहायता से

11. भारत के संविधान का निर्माण किस योजना के अनुसार किया गया?

- a) बैवलच योजना
- b) माउन्ट वेटन योजना
- c) कैबिनेट मिशन योजना
- d) उपर्युक्त में से सभी

12. महावीर जैन धर्म के तीर्थंकर थे।

a) 22 वें

b) 23 वें

c) 24 वें

d) 25 वें

13. पहली रेल किन दो नगरों के मध्य चली?

a) मुंबई और थाने

b) कलकत्ता और दिल्ली

c) मुम्बई और दिल्ली

d) दिल्ली और मद्रास

14. राष्ट्रीय शिक्षा नीति 2020 में, शिक्षक को किस कक्षा तक मातृभाषा/ स्थानीय या क्षेत्रीय भाषा में पाठ पढ़ाने पर बल दिया गया है?

a) कक्षा 3

b) कक्षा 4

c) कक्षा 5

d) उपरोक्त में से कोई नहीं

15. I have brought some books You to examine.

a) to

b) for

c) with

d) over

16. किस संख्या को उलट कर लिखने पर 12 का अंतर आएगा?

a) 84

b) 85

c) 86

d) उपरोक्त में से कोई नहीं

17. _____ अभिक्रिया के कारण लोहे में जंग लग जाता है?

a) ऑक्सीकरण

b) अपचयन

c) संक्षारण

d) अपचयोपचय (रेडोक्स)

18. चिड़िया : मछली : : हवाई जहाज : ?

- a) हवा
- b) कार
- c) पानी
- d) पानी का जहाज

19. NEP 2020 के अनुसार, नई शैक्षिक पाठ्यक्रम प्रणाली क्या है?

- a) 3 + 4 + 4 + 5
- b) 5 + 3 + 3 + 4
- c) 4 + 3 + 3 + 5
- d) 5 + 4 + 3 + 3

20. भारत में यूरेनियम कहा पाया जाता है?

- a) सिंहभूम
- b) जादूगोड़ा
- c) खेतड़ी
- d) कोडरमा

21. दक्षिण भारत की सबसे ऊँची चोटी है

- a) दोदाबेटा
- b) धूपगढ़
- c) अमर कण्टक
- d) अनाइमुडी

22. रामकृष्ण मिशन की स्थापना किसने की थी?

- a) रामकृष्ण परमहंस
- b) विवेकानन्द
- c) रवीन्द्रनाथ टैगोर
- d) दयानन्द सरस्वती

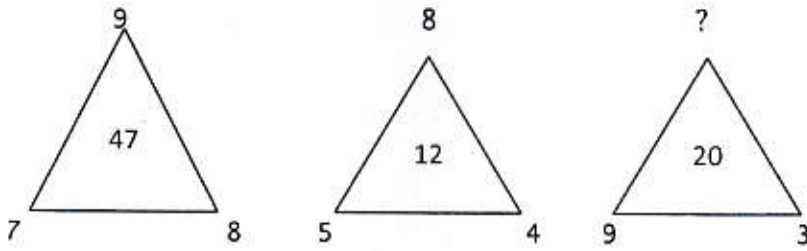
23. निम्नांकित में से कौन देश कोयले का सबसे बड़ा उत्पादक है?

- a) चीन
- b) भारत
- c) अमेरिका
- d) ब्राज़ील

24. एक व्यक्ति दक्षिण-पूर्व की ओर मुख करके वामावर्त दिशा में 90 डिग्री के तीन चक्कर लगता है और फिर दक्षिणावर्त दिशा में 45 डिग्री के दो चक्कर लगता है। उसके संदर्भ में उसका दाहिना हाथ अब किस दिशा में है?

- a) दक्षिण-पूर्व
- b) पूर्व
- ~~c) उत्तर-पूर्व~~
- d) दक्षिण

25. निम्नांकित त्रिभुजों में संख्याएँ एक विशेष नियमानुसार भरी गयी हैं, इनमें से एक स्थान पर प्रश्नसूचक चिन्ह है इस प्रश्नसूचक चिन्ह के स्थान पर नीचे दिये गये विकल्पों से एक की संख्या आयेगी, उस विकल्प को ज्ञात करें।



- a) 3
- b) 5
- ~~c) 7~~
- d) 9



29/25
Sats 19/02/2024

Principal
Daulat Mahato Memorial Teachers' Training College
Banaso, Bishnugarh, Hazaribag (Jharkhand)

DAULAT MAHATO MEMORIAL TEACHER'S TRAINING COLLEGE

BANASO, BISHNUGARH, HAZARIBAG (JHARKHAND) - 825312

Ability Test

Roll No.: 37

Students' Name: Priyanka mura

Course: B.Ed.

Session. 23-25

Date: 19/02/24

1. भारतीय संविधान का कौन-सा भाग संविधान की आत्मा के नाम से जाना जाता है?
 - a) नागरिकता
 - b) प्रस्तावना
 - c) मौलिक अधिकार
 - d) इनमें से कोई नहीं
2. 1857 ई० के विद्रोह के समय भारत में गवर्नर जनरल था।
 - a) लॉर्ड हार्डिंग
 - b) लॉर्ड डलहौजी
 - c) लॉर्ड कैनिंग
 - d) लॉर्ड एलिगन
3. राष्ट्रीय शिक्षा नीति 2020 के अनुसार, उच्च शिक्षण संस्थानों में 'सकल नामांकन अनुपात' (Gross Enrolment Ratio) को कितना प्रतिशत बढ़ाने का लक्ष्य रखा गया है?
 - a) 25 %
 - b) 30 %
 - c) 40 %
 - d) 50 %
4. He was delighted his brother's success.
 - a) at
 - b) in
 - c) with
 - d) of
5. किसी समद्विबाहु त्रिभुज के शीर्ष कोण की माप 100° है। आधार के प्रत्येक कोण की माप होगी।
 - a) 40°
 - b) 50°
 - c) 60°
 - d) 80°

6. 'विद्यालय' कौन-सा शब्द है?

- a) रूढ
- b) योगरूढ
- c) यौगिक
- d) अविकारी

7. लाफिंग गैस क्या है?

- a) नाइट्रिक आक्साइड
- b) नाइट्रस आक्साइड
- c) नाइट्रोजन डाईआक्साइड
- d) इनमें से कोई नहीं

8. MILD : N KOH :: GATE : ?

- a) HCWI
- b) HWCT
- c) HCWT
- d) EYRC

9. A, B की पत्नी व C, A की बहन है, C के पिता D है, जबकि E, D का पुत्र है, E का B से क्या संबंध है?

- a) भाई
- b) साला
- c) चचेरा भाई
- d) ससुर

10. एक अध्यापक प्रश्न-बैंक (Question Bank) तैयार कर सकता है-

- a) MS Word की सहायता से
- b) Excel की सहायता से
- c) Power Point की सहायता से
- d) उपरुक्त सभी की सहायता से

11. भारत के संविधान का निर्माण किस योजना के अनुसार किया गया?

- a) बैवलच योजना
- b) माउन्ट वेटन योजना
- c) कैबिनेट मिशन योजना
- d) उपर्युक्त में से सभी

12. महावीर जैन धर्म के तीर्थंकर थे।

a) 22 वें

b) 23 वें

c) 24 वें

d) 25 वें

13. पहली रेल किन दो नगरों के मध्य चली?

a) मुंबई और थाने

b) कलकत्ता और दिल्ली

c) मुम्बई और दिल्ली

d) दिल्ली और मद्रास

14. राष्ट्रीय शिक्षा नीति 2020 में, शिक्षक को किस कक्षा तक मातृभाषा/ स्थानीय या क्षेत्रीय भाषा में पाठ पढ़ाने पर बल दिया गया है?

a) कक्षा 3

b) कक्षा 4

c) कक्षा 5

d) उपरोक्त में से कोई नहीं

15. I have brought some books You to examine.

a) to

b) for

c) with

d) over

16. किस संख्या को उलट कर लिखने पर 12 का अंतर आएगा?

a) 84

b) 85

c) 86

d) उपरोक्त में से कोई नहीं

17. _____ अभिक्रिया के कारण लोहे में जंग लग जाता है?

a) ऑक्सीकरण

b) अपचयन

c) संक्षारण

d) अपचयोपचय (रेडोक्स)

18. चिड़िया : मछली : : हवाई जहाज : ?

- a) हवा
- b) कार
- c) पानी
- d) पानी का जहाज

19. NEP 2020 के अनुसार, नई शैक्षिक पाठ्यक्रम प्रणाली क्या है?

- a) 3 + 4 + 4 + 5
- b) 5 + 3 + 3 + 4
- c) 4 + 3 + 3 + 5
- d) 5 + 4 + 3 + 3

20. भारत में यूरेनियम कहा पाया जाता है?

- a) सिंहभूम
- b) जादूगोड़ा
- c) खेतड़ी
- d) कोडरमा

21. दक्षिण भारत की सबसे ऊँची चोटी है

- a) दोदाबेटा
- b) धूपगढ़
- c) अमर कण्टक
- d) अनाइमुडी

22. रामकृष्ण मिशन की स्थापना किसने की थी?

- a) रामकृष्ण परमहंस
- b) विवेकानन्द
- c) रवीन्द्रनाथ टैगोर
- d) दयानन्द सरस्वती

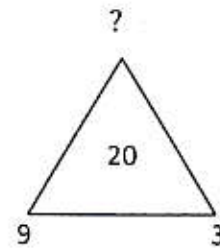
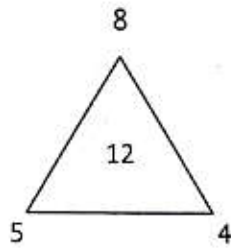
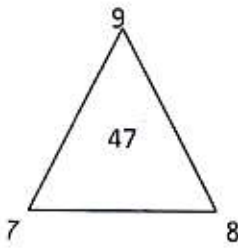
23. निम्नांकित में से कौन देश कोयले का सबसे बड़ा उत्पादक है?

- a) चीन
- b) भारत
- c) अमेरिका
- d) ब्राज़ील

24. एक व्यक्ति दक्षिण-पूर्व की ओर मुख करके वामावर्त दिशा में 90 डिग्री के तीन चक्कर लगता है और फिर दक्षिणावर्त दिशा में 45 डिग्री के दो चक्कर लगता है। उसके संदर्भ में उसका दाहिना हाथ अब किस दिशा में है?

- a) दक्षिण-पूर्व
- b) पूर्व
- c) उत्तर-पूर्व
- d) दक्षिण

25. निम्नांकित त्रिभुजों में संख्याएँ एक विशेष नियमानुसार भरी गयी हैं, इनमें से एक स्थान पर प्रश्नसूचक चिन्ह है इस प्रश्नसूचक चिन्ह के स्थान पर नीचे दिये गये विकल्पों से एक की संख्या आयेगी, उस विकल्प को ज्ञात करें।



a) 3

b) 5

c) 7

d) 9



20
25
19/02/2024

[Signature]
Principal

Daulat Mahato Memorial Teachers' Training College
Banaso, Hazaribag, Jharkhand

DAULAT MAHATO MEMORIAL TEACHER'S TRAINING COLLEGE

BANASO, BISHNUGARH, HAZARIBAG (JHARKHAND) - 825312

Ability Test

Roll No.: 60

Students' Name: Jitendra Kumar

Course: B.Ed.

Session. 2023-25

Date: 19-02-2024

1. भारतीय संविधान का कौन-सा भाग संविधान की आत्मा के नाम से जाना जाता है?
 - a) नागरिकता
 - b) प्रस्तावना
 - c) मौलिक अधिकार
 - d) इनमें से कोई नहीं
2. 1857 ई० के विद्रोह के समय भारत में गवर्नर जनरल था।
 - a) लॉर्ड हार्डिंग
 - b) लॉर्ड डलहौजी
 - c) लॉर्ड कैनिंग
 - d) लॉर्ड एलिगन
3. राष्ट्रीय शिक्षा नीति 2020 के अनुसार, उच्च शिक्षण संस्थानों में 'सकल नामांकन अनुपात' (Gross Enrolment Ratio) को कितना प्रतिशत बढ़ाने का लक्ष्य रखा गया है?
 - a) 25 %
 - b) 30 %
 - c) 40 %
 - d) 50 %
4. He was delighted his brother's success.
 - a) at
 - b) in
 - c) with
 - d) of
5. किसी समद्विबाहु त्रिभुज के शीर्ष कोण की माप 100° है। आधार के प्रत्येक कोण की माप होगी।
 - a) 40°
 - b) 50°
 - c) 60°
 - d) 80°

6. 'विद्यालय' कौन-सा शब्द है?

- a) रूढ
- b) योगरूढ
- c) यौगिक
- d) अविकारी

7. लाफिंग गैस क्या है?

- a) नाइट्रिक आक्साइड
- b) नाइट्रस आक्साइड
- c) नाइट्रोजन डाईआक्साइड
- d) इनमें से कोई नहीं

8. MILD : NKOH :: GATE : ?

- a) HCWI
- b) HWCT
- c) HCWT
- d) EYRC

9. A, B की पत्नी व C, A की बहन है, C के पिता D है, जबकि E, D का पुत्र है, E का B से क्या संबंध है?

- a) भाई
- b) साला
- c) चचेरा भाई
- d) ससुर

10. एक अध्यापक प्रश्न-बैंक (Question Bank) तैयार कर सकता है-

- a) MS Word की सहायता से
- b) Excel की सहायता से
- c) Power Point की सहायता से
- d) उपरुक्त सभी की सहायता से

11. भारत के संविधान का निर्माण किस योजना के अनुसार किया गया?

- a) बैवलच योजना
- b) माउन्ट वेटन योजना
- c) कैबिनेट मिशन योजना
- d) उपर्युक्त में से सभी

12. महावीर जैन धर्म के तीर्थंकर थे।

a) 22 वें

b) 23 वें

c) 24 वें

d) 25 वें

13. पहली रेल किन दो नगरों के मध्य चली?

a) मुंबई और थाने

b) कलकत्ता और दिल्ली

c) मुम्बई और दिल्ली

d) दिल्ली और मद्रास

14. राष्ट्रीय शिक्षा नीति 2020 में, शिक्षक को किस कक्षा तक मातृभाषा/ स्थानीय या क्षेत्रीय भाषा में पाठ पढ़ाने पर बल दिया गया है?

a) कक्षा 3

b) कक्षा 4

c) कक्षा 5

d) उपरोक्त में से कोई नहीं

15. I have brought some books You to examine.

a) to

b) for

c) with

d) over

16. किस संख्या को उलट कर लिखने पर 12 का अंतर आएगा?

a) 84

b) 85

c) 86

d) उपरोक्त में से कोई नहीं

17. _____ अभिक्रिया के कारण लोहे में जंग लग जाता है?

a) आक्सीकरण

b) अपचयन

c) संक्षारण

d) अपचयोपचय (रेडोक्स)

18. चिड़िया : मछली : : हवाई जहाज : ?

a) हवा

b) कार

c) पानी

d) पानी का जहाज

19. NEP 2020 के अनुसार, नई शैक्षिक पाठ्यक्रम प्रणाली क्या है?

a) 3 + 4 + 4 + 5

b) 5 + 3 + 3 + 4

c) 4 + 3 + 3 + 5

d) 5 + 4 + 3 + 3

20. भारत में यूरेनियम कहा पाया जाता है?

a) सिंहभूम

b) जादूगोड़ा

c) खेतड़ी

d) कोडरमा

21. दक्षिण भारत की सबसे ऊँची चोटी है

a) दोदाबेटा

b) धूपगढ़

c) अमर कण्टक

d) अनाइमुडी

22. रामकृष्ण मिशन की स्थापना किसने की थी?

a) रामकृष्ण परमहंस

b) विवेकानन्द

c) रवीन्द्रनाथ टैगोर

d) दयानन्द सरस्वती

23. निम्नांकित में से कौन देश कोयले का सबसे बड़ा उत्पादक है?

a) चीन

b) भारत

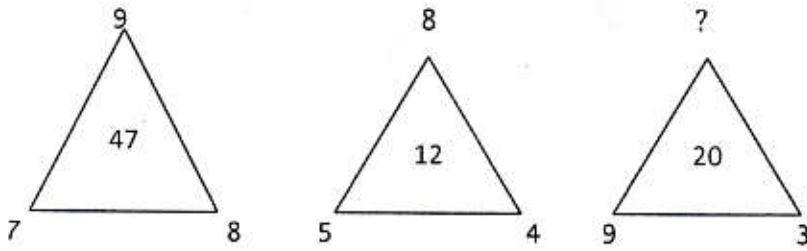
c) अमेरिका

d) ब्राजील

24. एक व्यक्ति दक्षिण-पूर्व की ओर मुख करके वामावर्त दिशा में 90 डिग्री के तीन चक्कर लगता है और फिर दक्षिणावर्त दिशा में 45 डिग्री के दो चक्कर लगता है। उसके संदर्भ में उसका दाहिना हाथ अब किस दिशा में है?

- a) दक्षिण-पूर्व
- b) पूर्व
- c) उत्तर-पूर्व
- d) दक्षिण

25. निम्नांकित त्रिभुजों में संख्याएँ एक विशेष नियमानुसार भरी गयी हैं, इनमें से एक स्थान पर प्रश्नसूचक चिन्ह है इस प्रश्नसूचक चिन्ह के स्थान पर नीचे दिये गये विकल्पों से एक की संख्या आयेगी, उस विकल्प को ज्ञात करें।



- a) 3
- b) 5
- c) 7
- d) 9



22
25
19/02/2024

Principal
Daulat Mahato Memorial Teachers' Training College
Banaso, Hazaribag, Jharkhand

DAULAT MAHATO MEMORIAL TEACHER'S TRAINING COLLEGE

BANASO, BISHNUGARH, HAZARIBAG (JHARKHAND) - 825312

Ability Test

Roll No.: 75

Students' Name: Pankaj Kumar Rana

Course: B.Ed.

Session. 2023-25

Date: 19/02/2024

1. भारतीय संविधान का कौन-सा भाग संविधान की आत्मा के नाम से जाना जाता है?
 - a) नागरिकता
 - b) प्रस्तावना
 - c) मौलिक अधिकार
 - d) इनमें से कोई नहीं
2. 1857 ई० के विद्रोह के समय भारत में गवर्नर जनरल था।
 - a) लॉर्ड हार्डिंग
 - b) लॉर्ड डलहौजी
 - c) लॉर्ड कैनिंग
 - d) लॉर्ड एलिगन
3. राष्ट्रीय शिक्षा नीति 2020 के अनुसार, उच्च शिक्षण संस्थानों में 'सकल नामांकन अनुपात' (Gross Enrolment Ratio) को कितना प्रतिशत बढ़ाने का लक्ष्य रखा गया है?
 - a) 25 %
 - b) 30 %
 - c) 40 %
 - d) 50 %
4. He was delighted his brother's success.
 - a) at
 - b) in
 - c) with
 - d) of
5. किसी समद्विबाहु त्रिभुज के शीर्ष कोण की माप 100° है। आधार के प्रत्येक कोण की माप होगी।
 - a) 40°
 - b) 50°
 - c) 60°
 - d) 80°

6. 'विद्यालय' कौन-सा शब्द है?

- a) रूढ
- b) योगरूढ
- c) यौगिक
- d) अविकारी

7. लाफिंग गैस क्या है?

- a) नाइट्रिक आक्साइड
- b) नाइट्रस आक्साइड
- c) नाइट्रोजन डाईआक्साइड
- d) इनमें से कोई नहीं

8. MILD : N KOH :: GATE : ?

- a) HCWI
- b) HWCT
- c) HCWT
- d) EYRC

9. A, B की पत्नी व C, A की बहन है, C के पिता D है, जबकि E, D का पुत्र है, E का B से क्या संबंध है?

- a) भाई
- b) साला
- c) चचेरा भाई
- d) ससुर

10. एक अध्यापक प्रश्न-बैंक (Question Bank) तैयार कर सकता है-

- a) MS Word की सहायता से
- b) Excel की सहायता से
- c) Power Point की सहायता से
- d) उपरुक्त सभी की सहायता से

11. भारत के संविधान का निर्माण किस योजना के अनुसार किया गया?

- a) बैवलच योजना
- b) माउन्ट वेटन योजना
- c) कैबिनेट मिशन योजना
- d) उपर्युक्त में से सभी

12. महावीर जैन धर्म के तीर्थंकर थे।

- a) 22 वैं
- b) 23 वैं
- c) 24 वैं
- d) 25 वैं

13. पहली रेल किन दो नगरों के मध्य चली?

- a) मुंबई और थाने
- b) कलकत्ता और दिल्ली
- c) मुम्बई और दिल्ली
- d) दिल्ली और मद्रास

14. राष्ट्रीय शिक्षा नीति 2020 में, शिक्षक को किस कक्षा तक मातृभाषा/ स्थानीय या क्षेत्रीय भाषा में पाठ पढ़ाने पर बल दिया गया है?

- a) कक्षा 3
- b) कक्षा 4
- c) कक्षा 5
- d) उपरोक्त में से कोई नहीं

15. I have brought some books You to examine.

- a) to
- b) for
- c) with
- d) over

16. किस संख्या को उलट कर लिखने पर 12 का अंतर आएगा?

- a) 84
- b) 85
- c) 86
- d) उपरोक्त में से कोई नहीं

17. _____ अभिक्रिया के कारण लोहे में जंग लग जाता है?

- a) आक्सीकरण
- b) अपचयन
- c) संक्षारण
- d) अपचयोपचय (रेडोक्स)

18. चिड़िया : मछली : : हवाई जहाज : ?

- a) हवा
- b) कार
- c) पानी
- d) पानी का जहाज

19. NEP 2020 के अनुसार, नई शैक्षिक पाठ्यक्रम प्रणाली क्या है?

- a) 3 + 4 + 4 + 5
- b) 5 + 3 + 3 + 4
- c) 4 + 3 + 3 + 5
- d) 5 + 4 + 3 + 3

20. भारत में यूरेनियम कहा पाया जाता है?

- a) सिंहभूम
- b) जादूगोड़ा
- c) खेतड़ी
- d) कोडरमा

21. दक्षिण भारत की सबसे ऊँची चोटी है

- a) दोदाबेटा
- b) धूपगढ़
- c) अमर कण्टक
- d) अनाइमुडी

22. रामकृष्ण मिशन की स्थापना किसने की थी?

- a) रामकृष्ण परमहंस
- b) विवेकानन्द
- c) रवीन्द्रनाथ टैगोर
- d) दयानन्द सरस्वती

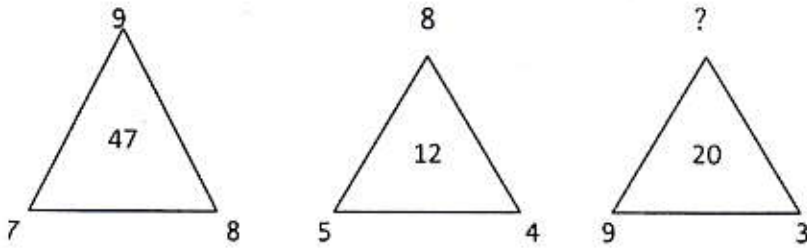
23. निम्नांकित में से कौन देश कोयले का सबसे बड़ा उत्पादक है?

- a) चीन
- b) भारत
- c) अमेरिका
- d) ब्राज़ील

24. एक व्यक्ति दक्षिण-पूर्व की ओर मुख करके वामावर्त दिशा में 90 डिग्री के तीन चक्कर लगता है और फिर दक्षिणावर्त दिशा में 45 डिग्री के दो चक्कर लगता है। उसके संदर्भ में उसका दाहिना हाथ अब किस दिशा में है?

- a) दक्षिण-पूर्व
- b) पूर्व
- c) उत्तर-पूर्व
- d) दक्षिण

25. निम्नांकित त्रिभुजों में संख्याएँ एक विशेष नियमानुसार भरी गयी हैं, इनमें से एक स्थान पर प्रश्नसूचक चिन्ह है इस प्रश्नसूचक चिन्ह के स्थान पर नीचे दिये गये विकल्पों से एक की संख्या आयेगी, उस विकल्प को ज्ञात करें।



- a) 3
- b) 5
- c) 7
- d) 9



18
25
19/02/2024

Principal
Daulat Mahato Memorial Teachers' Training College
Hazaribag, Jharkhand

DAULAT MAHATO MEMORIAL TEACHER'S TRAINING COLLEGE

BANASO, BISHNUGARH, HAZARIBAG (JHARKHAND) - 825312

Ability Test

Roll No.:

Students' Name: JITENDRA KUMAR

Course: B.Ed.

Session. 2023-25

Date: 19-02-2024

1. भारतीय संविधान का कौन-सा भाग संविधान की आत्मा के नाम से जाना जाता है?
 - a) नागरिकता
 - b) प्रस्तावना
 - c) मौलिक अधिकार
 - d) इनमें से कोई नहीं
2. 1857 ई० के विद्रोह के समय भारत में गवर्नर जनरल था।
 - a) लॉर्ड हार्डिंग
 - b) लॉर्ड डलहौजी
 - c) लॉर्ड कैनिंग
 - d) लॉर्ड एलिगन
3. राष्ट्रीय शिक्षा नीति 2020 के अनुसार, उच्च शिक्षण संस्थानों में 'सकल नामांकन अनुपात' (Gross Enrolment Ratio) को कितना प्रतिशत बढ़ाने का लक्ष्य रखा गया है?
 - a) 25 %
 - b) 30 %
 - c) 40 %
 - d) 50 %
4. He was delighted his brother's success.
 - a) at
 - b) in
 - c) with
 - d) of
5. किसी समद्विबाहु त्रिभुज के शीर्ष कोण की माप 100° है। आधार के प्रत्येक कोण की माप होगी।
 - a) 40°
 - b) 50°
 - c) 60°
 - d) 80°

6. 'विद्यालय' कौन-सा शब्द है?

- a) रूढ़
- b) योगरूढ़
- c) यौगिक
- d) अविकारी

7. लाफिंग गैस क्या है?

- a) नाइट्रिक आक्साइड
- b) नाइट्रस आक्साइड
- c) नाइट्रोजन डाईआक्साइड
- d) इनमें से कोई नहीं

8. MILD : N KOH :: GATE : ?

- a) HCWI
- b) HWCT
- c) HCWT
- d) EYRC

9. A, B की पत्नी व C, A की बहन है, C के पिता D है, जबकि E, D का पुत्र है, E का B से क्या संबंध है?

- a) भाई
- b) साला
- c) चचेरा भाई
- d) ससुर

10. एक अध्यापक प्रश्न-बैंक (Question Bank) तैयार कर सकता है-

- a) MS Word की सहायता से
- b) Excel की सहायता से
- c) Power Point की सहायता से
- d) उपरुक्त सभी की सहायता से

11. भारत के संविधान का निर्माण किस योजना के अनुसार किया गया?

- a) बैवलच योजना
- b) माउन्ट वेटन योजना
- c) कैबिनेट मिशन योजना
- d) उपर्युक्त में से सभी

12. महावीर जैन धर्म के तीर्थंकर थे।

a) 22 वें

b) 23 वें

c) 24 वें

d) 25 वें

13. पहली रेल किन दो नगरों के मध्य चली?

a) मुंबई और थाने

b) कलकत्ता और दिल्ली

c) मुम्बई और दिल्ली

d) दिल्ली और मद्रास

14. राष्ट्रीय शिक्षा नीति 2020 में, शिक्षक को किस कक्षा तक मातृभाषा/ स्थानीय या क्षेत्रीय भाषा में पाठ पढ़ाने पर बल दिया गया है?

a) कक्षा 3

b) कक्षा 4

c) कक्षा 5

d) उपरोक्त में से कोई नहीं

15. I have brought some books You to examine.

a) to

b) for

c) with

d) over

16. किस संख्या को उलट कर लिखने पर 12 का अंतर आएगा?

a) 84

b) 85

c) 86

d) उपरोक्त में से कोई नहीं

17. _____ अभिक्रिया के कारण लोहे में जंग लग जाता है?

a) ऑक्सीकरण

b) अपचयन

c) संक्षारण

d) अपचयोपचय (रेडोक्स)

18. चिड़िया : मछली : : हवाई जहाज : ?

- a) हवा
- b) कार
- c) पानी
- d) पानी का जहाज

19. NEP 2020 के अनुसार, नई शैक्षिक पाठ्यक्रम प्रणाली क्या है?

- a) 3 + 4 + 4 + 5
- b) 5 + 3 + 3 + 4
- c) 4 + 3 + 3 + 5
- d) 5 + 4 + 3 + 3

20. भारत में यूरेनियम कहा पाया जाता है?

- a) सिंहभूम
- b) जादूगोड़ा
- c) खेतड़ी
- d) कोडरमा

21. दक्षिण भारत की सबसे ऊँची चोटी है

- a) दोदाबेटा
- b) धूपगढ़
- c) अमर कण्टक
- d) अनाइमुडी

22. रामकृष्ण मिशन की स्थापना किसने की थी?

- a) रामकृष्ण परमहंस
- b) विवेकानन्द
- c) रवीन्द्रनाथ टैगोर
- d) दयानन्द सरस्वती

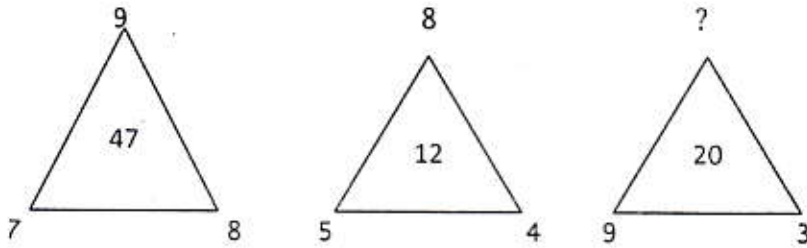
23. निम्नांकित में से कौन देश कोयले का सबसे बड़ा उत्पादक है?

- a) चीन
- b) भारत
- c) अमेरिका
- d) ब्राज़ील

24. एक व्यक्ति दक्षिण-पूर्व की ओर मुख करके वामावर्त दिशा में 90 डिग्री के तीन चक्कर लगता है और फिर दक्षिणावर्त दिशा में 45 डिग्री के दो चक्कर लगता है। उसके संदर्भ में उसका दाहिना हाथ अब किस दिशा में है?

- a) दक्षिण-पूर्व
- b) पूर्व
- c) उत्तर-पूर्व
- d) दक्षिण

25. निम्नांकित त्रिभुजों में संख्याएँ एक विशेष नियमानुसार भरी गयी हैं, इनमें से एक स्थान पर प्रश्नसूचक चिन्ह है इस प्रश्नसूचक चिन्ह के स्थान पर नीचे दिये गये विकल्पों से एक की संख्या आयेगी, उस विकल्प को ज्ञात करें।



- a) 3
- b) 5
- c) 7
- d) 9



DAULAT MAHATO MEMORIAL TEACHER'S TRAINING COLLEGE

BANASO, BISHNUGARH, HAZARIBAG (JHARKHAND) - 825312

Ability Test

Roll No.: 70

Students' Name: *Salesh Kumar*

Course: B.Ed.

Session. 2023-2025

Date: 19/02/24

1. भारतीय संविधान का कौन-सा भाग संविधान की आत्मा के नाम से जाना जाता है?
 - a) नागरिकता
 - b) प्रस्तावना
 - c) मौलिक अधिकार
 - d) इनमें से कोई नहीं
2. 1857 ई० के विद्रोह के समय भारत में गवर्नर जनरल था।
 - a) लॉर्ड हार्डिंग
 - b) लॉर्ड डलहौजी
 - c) लॉर्ड कैनिंग
 - d) लॉर्ड एलिगन
3. राष्ट्रीय शिक्षा नीति 2020 के अनुसार, उच्च शिक्षण संस्थानों में 'सकल नामांकन अनुपात' (Gross Enrolment Ratio) को कितना प्रतिशत बढ़ाने का लक्ष्य रखा गया है?
 - a) 25 %
 - b) 30 %
 - c) 40 %
 - d) 50 %
4. He was delighted his brother's success.
 - a) at
 - b) in
 - c) with
 - d) of
5. किसी समद्विबाहु त्रिभुज के शीर्ष कोण की माप 100° है। आधार के प्रत्येक कोण की माप होगी।
 - a) 40°
 - b) 50°
 - c) 60°
 - d) 80°

6. 'विद्यालय' कौन-सा शब्द है?

- a) रूढ़
- b) योगरूढ़
- c) यौगिक
- d) अविकारी

7. लाफिंग गैस क्या है?

- a) नाइट्रिक आक्साइड
- b) नाइट्रस आक्साइड
- c) नाइट्रोजन डाईआक्साइड
- d) इनमें से कोई नहीं

8. MILD : NKOH :: GATE : ?

- a) HCWI
- b) HWCT
- c) HCWT
- d) EYRC

9. A, B की पत्नी व C, A की बहन है, C के पिता D है, जबकि E, D का पुत्र है, E का B से क्या संबंध है?

- a) भाई
- b) साला
- c) चचेरा भाई
- d) ससुर

10. एक अध्यापक प्रश्न-बैंक (Question Bank) तैयार कर सकता है-

- a) MS Word की सहायता से
- b) Excel की सहायता से
- c) Power Point की सहायता से
- d) उपरक्त सभी की सहायता से

11. भारत के संविधान का निर्माण किस योजना के अनुसार किया गया?

- a) बैचलर योजना
- b) माउन्ट वेटन योजना
- c) कैबिनेट मिशन योजना
- d) उपर्युक्त में से सभी

12. महावीर जैन धर्म के तीर्थंकर थे।

a) 22 वें

b) 23 वें

c) 24 वें

d) 25 वें

13. पहली रेल किन दो नगरों के मध्य चली?

a) मुंबई और थाने

b) कलकत्ता और दिल्ली

c) मुम्बई और दिल्ली

d) दिल्ली और मद्रास

14. राष्ट्रीय शिक्षा नीति 2020 में, शिक्षक को किस कक्षा तक मातृभाषा/ स्थानीय या क्षेत्रीय भाषा में पाठ पढ़ाने पर बल दिया गया है?

a) कक्षा 3

b) कक्षा 4

c) कक्षा 5

d) उपरोक्त में से कोई नहीं

15. I have brought some books You to examine.

a) to

b) for

c) with

d) over

16. किस संख्या को उलट कर लिखने पर 12 का अंतर आएगा?

a) 84

b) 85

c) 86

d) उपरोक्त में से कोई नहीं

17. _____ अभिक्रिया के कारण लोहे में जंग लग जाता है?

a) आक्सीकरण

b) अपचयन

c) संक्षारण

d) अपचयोपचय (रेडोक्स)

18. चिड़िया : मछली : : हवाई जहाज : ?

- a) हवा
- b) कार
- c) पानी
- d) ~~पानी का जहाज~~

19. NEP 2020 के अनुसार, नई शैक्षिक पाठ्यक्रम प्रणाली क्या है?

- a) 3 + 4 + 4 + 5
- b) 5 + 3 + 3 + 4
- c) ~~4 + 3 + 3 + 5~~
- d) 5 + 4 + 3 + 3

20. भारत में यूरेनियम कहा पाया जाता है?

- a) सिंहभूम
- b) ~~जादूगोड़ा~~
- c) खेतड़ी
- d) कोडरमा

21. दक्षिण भारत की सबसे ऊँची चोटी है

- a) दोदावेटा
- b) धूपगढ़
- c) अमर कण्टक
- d) ~~अनाइमुडी~~

22. रामकृष्ण मिशन की स्थापना किसने की थी?

- a) रामकृष्ण परमहंस
- b) ~~विवेकानन्द~~
- c) रवीन्द्रनाथ टैगोर
- d) दयानन्द सरस्वती

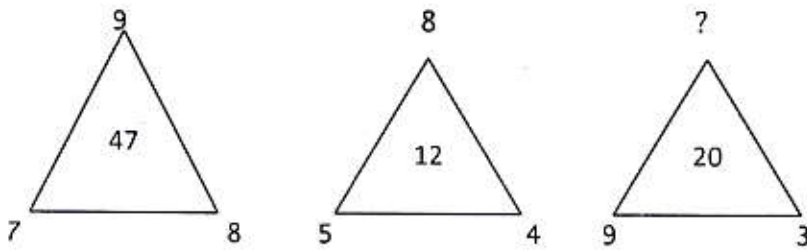
23. निम्नांकित में से कौन देश कोयले का सबसे बड़ा उत्पादक है?

- a) चीन
- b) भारत
- c) ~~अमेरिका~~
- d) ब्राज़ील

24. एक व्यक्ति दक्षिण-पूर्व की ओर मुख करके वामावर्त दिशा में 90 डिग्री के तीन चक्कर लगता है और फिर दक्षिणावर्त दिशा में 45 डिग्री के दो चक्कर लगता है। उसके संदर्भ में उसका दाहिना हाथ अब किस दिशा में है?

- a) ~~दक्षिण-पूर्व~~
- b) पूर्व
- c) उत्तर-पूर्व
- d) दक्षिण

25. निम्नांकित त्रिभुजों में संख्याएँ एक विशेष नियमानुसार भरी गयी हैं, इनमें से एक स्थान पर प्रश्नसूचक चिन्ह है इस प्रश्नसूचक चिन्ह के स्थान पर नीचे दिये गये विकल्पों से एक की संख्या आयेगी, उस विकल्प को ज्ञात करें।



- a) 3
- b) 5
- c) ~~7~~
- d) 9